



**ROTEIRO DE ATIVIDADES COMPLEMENTARES DE ESTUDO – COVID 19  
5º ROTEIRO  
ESCOLA MUNICIPAL PARIGOT DE SOUZA**

**ALUNO (A):** \_\_\_\_\_

**ESCOLA MUNICIPAL PARIGOT DE SOUZA**

**PROFESSOR: CÉLIA VERRI E SUELI DUTRA**

**TURMA: SRM – GRUPO 2**

**COMPONENTES CURRICULARES: LÍNGUA PORTUGUESA, MATEMÁTICA.**

**PERÍODO DE REALIZAÇÃO: 01/06/2020 A 05/06/2020**

QUERIDO (A) ALUNO (A) E FAMÍLIA!

SEGUE O **5º ROTEIRO** DE ATIVIDADES PARA REALIZAR.

OUÇA O ÁUDIO EXPLICATIVO QUE ESTÁ DISPONÍVEL EM NOSSO GRUPO ANTES DE REALIZAR AS ATIVIDADES E ASSISTA ÀS AULAS PELO YOUTUBE OU PELO CANAL 5.2. LEIA TUDO COM BASTANTE ATENÇÃO E PEÇA AJUDA DE ALGUÉM DA SUA FAMÍLIA OU DA PROFESSORA PELO WHATSAPP SEMPRE QUE PRECISAR. SEU FILHO TERÁ O PERÍODO DE **01/06/2020 A 05/06/2020** PARA CONCLUIR ESSAS ATIVIDADES.

**O PRÓXIMO ROTEIRO SERÁ ENVIADO NO DIA 05/06/2020.**

**NESSE DIA VOCÊ DEVERÁ TRAZER AS ATIVIDADES QUE FIZERAM EM CASA PARA A PROFESSORA CORRIGIR.**

CUIDEM-SE E CUIDEM DE SEUS FAMILIARES. EM BREVE TUDO ESTARÁ BEM.

UM ABRAÇO DAS PROFESSORAS

<p><b>O QUE VOCÊ VAI ESTUDAR?</b></p>	<p>LÍNGUA PORTUGUESA: JOGO DA MEMÓRIA, RELACIONAR FRASES À IMAGEM, TREINO DE LEITURA, FORMAR FRASES.</p> <p>MATEMÁTICA: RESOLUÇÃO DE SITUAÇÕES PROBLEMA, VALOR MONETÁRIO, QUANTIDADES COM MATERIAL DOURADO: UNIDADE, DEZENA, CENTENA.</p>
<p><b>PARA QUE VAMOS ESTUDAR ESSES CONTEÚDOS?</b></p>	<ul style="list-style-type: none"> <li>• DESENVOLVER A ATENÇÃO E O RACIOCÍNIO.</li> <li>• RELACIONAR IMAGEM COM ESCRITA.</li> <li>• ESCREVER FRASE.</li> <li>• REALIZAR CÁLCULOS.</li> <li>• IDENTIFICAR ESTRATÉGIA PARA RESOLVER SITUAÇÃO PROBLEMA.</li> <li>• CALCULAR UTILIZANDO MATERIAL DOURADO.</li> </ul>

**SECRETARIA MUNICIPAL DE EDUCAÇÃO  
ATIVIDADES COMPLEMENTARES DE ESTUDO – COVID 19**

**COMO VAMOS  
ESTUDAR OS  
CONTEÚDOS?**

- ORGANIZE SEUS ESTUDOS!
- EM SUAS ATIVIDADES COLOQUE A DATA EM QUE IRÁ REALIZÁ-LAS.
- FAÇA UM POUCO POR DIA, SEGUINDO AS DATAS E AS AULAS NA TV.
- PRESTE ATENÇÃO NOS COMANDOS AO LADO DE CADA ATIVIDADE, QUE ESTARÁ INDICANDO COMO VOCÊ DEVERÁ FAZER.

**COMO VAMOS  
REGISTRAR O  
QUE  
APRENDEMOS?**

AS ATIVIDADES ESTARÃO DISPONÍVEIS PARA RETIRADA NA ESCOLA, E DEVERÃO SER RESPONDIDAS NAS PRÓPRIAS FOLHAS.

VOCÊ IRÁ PINTAR AS FIGURAS, DEPOIS COLAR EM UM OUTRO PAPEL (PARA FICAR MAIS GROSSO), APÓS SECAR IRÁ RECORTAR CADA FIGURA. AGORA, É SÓ SE DIVERTIR. JOGUE COM O PAI, A MÃE, A VÓ/VÔ, IRMÃO.

**OBS: ESTA  
IMAGEM É  
APENAS  
MODELO,  
PINTE E  
RECORTE A  
IMAGEM DA  
ÚLTIMA  
FOLHA.**

**LÍNGUA PORTUGUESA**

**1- JOGO DA MEMÓRIA**

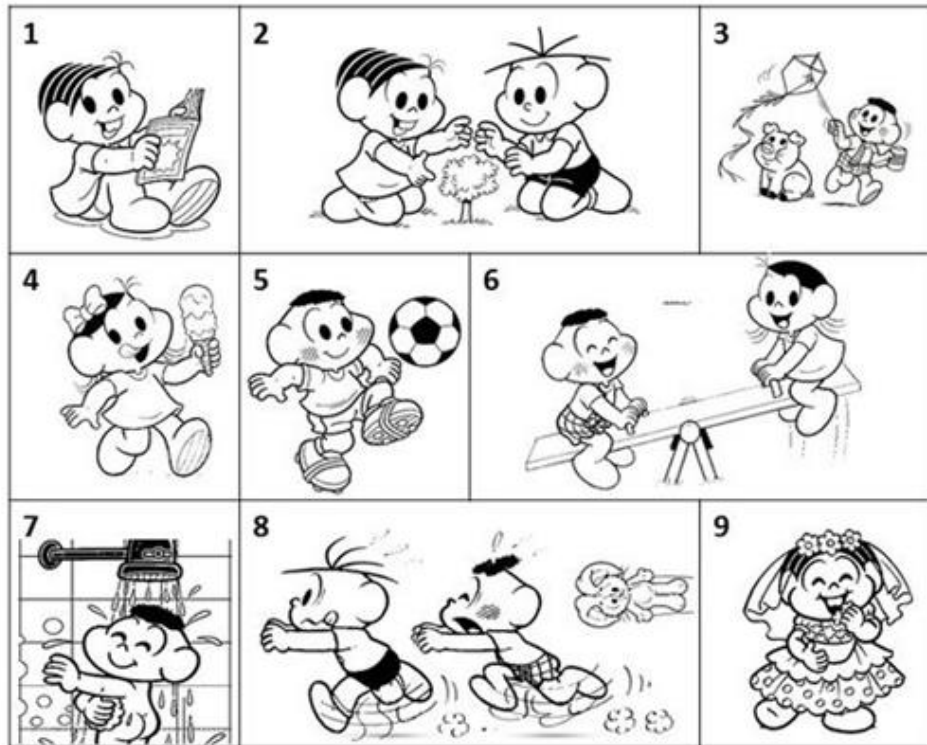
**JOGO DA MEMÓRIA DO MASCULINO E FEMININO**



**SECRETARIA MUNICIPAL DE EDUCAÇÃO  
ATIVIDADES COMPLEMENTARES DE ESTUDO – COVID 19**

2-OBSERVE, LEIA E RELACIONE.

Relacione uma frase para cada imagem:



OBSERVE AS  
IMAGENS, LEIA  
AS FRASES E  
ENUMERE  
CORRETAMENTE

- ( ) O CASCÃO E A MAGALI ESTÃO BRINCANDO NA GANGORRA.
- ( ) A MÔNICA E O CEBOLINHA PLANTARAM UMA ÁRVORE.
- ( ) QUE SURPRESA! O CASCÃO TOMOU BANHO HOJE.
- ( ) A MAGALI COMPROU UM SORVETE ENORME.
- ( ) CASCÃO ADORA SOLTAR PIPA.
- ( ) A MÔNICA FOI A NOIVA DA FESTA JUNINA.
- ( ) O CEBOLINHA E O CASCÃO CORRERAM DA MÔNICA.
- (1) A MÔNICA LÊ REVISTINHA TODOS OS DIAS.
- ( ) O CASCÃO É UM ÓTIMO JOGADOR DE FUTEBOL.

3-AGORA É SUA VEZ, ESCOLHA UMA DAS IMAGENS E ESCREVA  
UMA FRASE BEM CRIATIVA.

---

---

---

---

**SECRETARIA MUNICIPAL DE EDUCAÇÃO  
ATIVIDADES COMPLEMENTARES DE ESTUDO – COVID 19**

AS OPERAÇÕES  
PODEM SER  
REALIZADAS  
NESSE ESPAÇO  
DA FOLHA.

$$\begin{array}{r} 30,00 \\ + 3,00 \\ \hline 33,00 \end{array}$$

**MATEMÁTICA**

1- OBSERVE E RESPONDA.

Veja os preços abaixo e responda:



R\$3,00



R\$50,00



R\$2,00



R\$30,00



R\$15,00

- Qual deles é o mais caro?
- E o mais barato?
- Faça a operação:

BOLA + TAPETE

$$3,00 + 30,00 = 33,00$$

LEITE + BOLA

CARNE - BOLA

SAPATO + CARNE

TAPETE - CARNE

BOLA - LEITE

Escreva em palavras:

R\$3,00: TRÊS REAIS

R\$ 15,00: \_\_\_\_\_

R\$50,00: \_\_\_\_\_

R\$ 30,00: \_\_\_\_\_

2- FUI AO MERCADO E COMPREI 18 CAIXINHAS DE LEITE.  
QUANTO GASTEI?

3- TENHO 50 REAIS, QUERO COMPRAR UMA BOLA E UM  
TAPETE. QUANTO RECEBEREI DE TROCO?



**SECRETARIA MUNICIPAL DE EDUCAÇÃO  
ATIVIDADES COMPLEMENTARES DE ESTUDO – COVID 19**

REALIZE A  
CONTA NESSE  
ESPAÇO.  
PRESTE  
BASTANTE  
ATENÇÃO.

**4- LEIA E RESOLVA COM ATENÇÃO.**

- a) ONTEM FOI ANIVERSÁRIO DO NOSSO AMIGO BINHO. ELE GANHOU UM DINHEIRO DE SEU AVÔ COMO PRESENTE POR ESSA DATA TÃO ESPECIAL. VOCÊ PODE AJUDÁ-LO A CONTAR E DESCOBRIR O QUANTO DE GRANA ELE TEM?



a. Quanto dinheiro ele tem?

\_\_\_\_\_

b. Como se representaria isso em algarismos?

CENTENA,  DEZENAS E  
 UNIDADES

- b) ESCREVA COM ALGARISMO AS QUANTIDADES REPRESENTADAS EM CADA CONJUNTO DE PEÇAS DO MATERIAL DOURADO.

**RELEMBRANDO:**



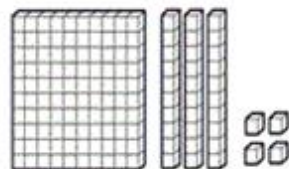
1 CENTENA



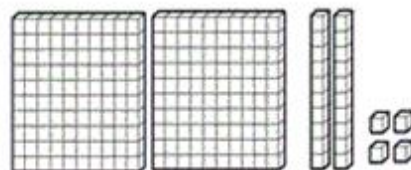
1 DEZENA



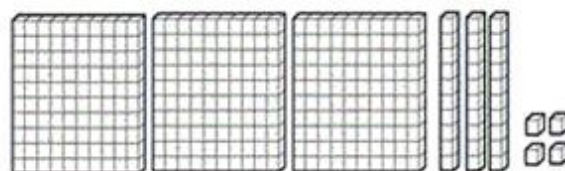
1 UNIDADE



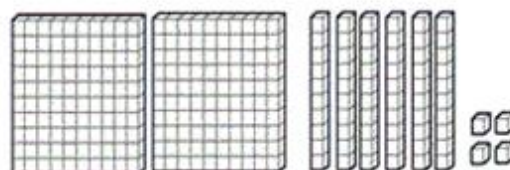
CENTENA,  DEZENAS E  
 UNIDADES



CENTENA,  DEZENAS E  
 UNIDADES



CENTENA,  DEZENAS E  
 UNIDADES



CENTENA,  DEZENAS E  
 UNIDADES

**SECRETARIA MUNICIPAL DE EDUCAÇÃO  
ATIVIDADES COMPLEMENTARES DE ESTUDO – COVID 19**

USE ESTA  
IMAGEM PARA  
PINTAR,  
RECORTAR E  
BRINCAR.

**JOGO DA MEMÓRIA DO MASCULINO E FEMININO**

